

Práctica n ° 6 Tensiones en los suelos.

Primera Parte: Tensiones verticales en un suelo. (principio de Terzaghi)

(Se evaluarán las tensiones a las profundidades: 2,0 m. 3,0 m. 8,0 m. y 11,0 m)

1º Dibujar y acotar las leyes de tensiones verticales en el terreno croquizado de la figura:

a/ Efectivas (σ'_v).

b/ Intersticiales (u).

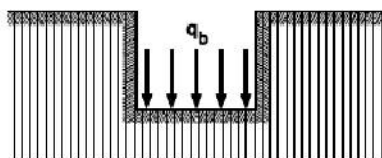
c/ Totales (σ_v). ($\sigma_v = \sigma'_v + u$)

2º Valor de la tensión neta a las profundidades indicadas.

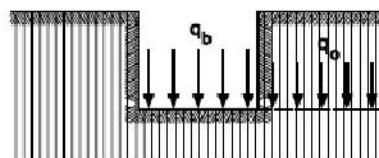
Nota: presión media transmitida por la cimentación: $q_b = 1 \text{ daN/cm}^2$ (1 kp/cm^2).

(CTE)	(q'_o)	(u)	(q_o)	($q \text{ neta}$)
	$q'_v \text{ (kN/m}^2\text{)}$	$u = \text{kN/m}^2$	$q'_v \text{ (kN/m}^2\text{)}$	$\text{(kN/m}^2\text{)}$
2 m SUELO 1 $\gamma' = 17,5 \text{ kN/m}^3$				
N.F. 1 m SUELO 1 $\gamma' = \gamma_{\text{sat}} = 18,5 \text{ kN/m}^3$				
5 m SUELO 2 $\gamma_{\text{sat}} = 21 \text{ kN/m}^3$				
3 m SUELO 3 $\gamma_{\text{sat}} = 23 \text{ kN/m}^3$				

CTE: sin nivel freático

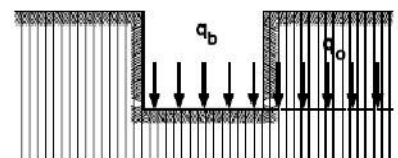


$q_b > q_o$



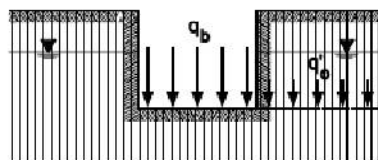
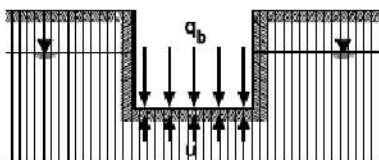
$q_b \text{ neta} = q_b - q_o$

$q_b = q_o$



$q \text{ neta} = 0$

CTE: con nivel freático



$q' \text{ neta} = (q'_b) - q'_o$

$q \text{ neta} = q' \text{ neta}$

Segunda Parte: Tensiones horizontales en un suelo.

Determinar las tensiones horizontales efectivas a las profundidades de: 2,0 m. 3,0 m. 8,0 m. y 11,0 m.

	$\sigma' h = \text{kN/m}^2$	$u = \text{kN/m}^2$	$\sigma h = \text{kN/m}^2$
2	SUELO 1 $\gamma' = 17,5 \text{ kN/m}^3$		
	$K_0 = 0,4$		
N.F. 1	SUELO 1 $\gamma' = \gamma_{\text{sat}} = 18,5 \text{ kN/m}^3$		
	$K_0 = 0,3$		
5 m	SUELO 2 $\gamma_{\text{sat}} = 21 \text{ kN/m}^3$		
	$K_0 = 0,2$		
3 m	SUELO 3 $\gamma_{\text{sat}} = 23 \text{ kN/m}^3$		

COTAS EN METROS