

Apellidos:

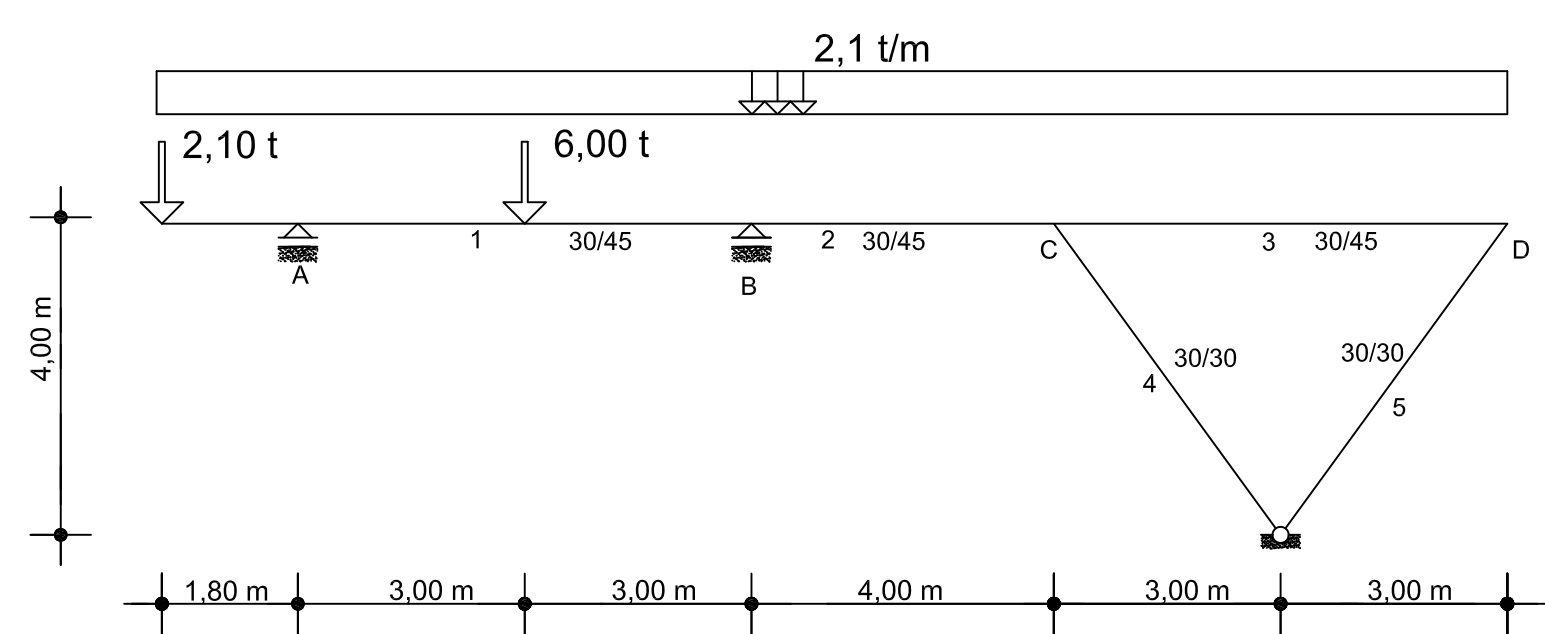
Nombre:

D.N.I.:

G

De la estructura croquizada, de peso propio despreciable, utilizando el método de Cross:

- 1º) Dibujar a escala y acotado el diagrama de solicitaciones cortantes.
- 2º) Dibujar a escala y acotado el diagrama de solicitaciones flectoras.
- 3º) Dibujar a escala y acotado el diagrama de solicitaciones normales.
- 4º) Comprobar el equilibrio estático de la estructura.



ANÁLISIS

DATOS:


B	L	I	K

COEFICIENTES DE REPARTO:

PUNTUACIÓN DEL EJERCICIO:


Resultado correcto del apartado 1º: 2 puntos
Resultado correcto del apartado 2º: 3 puntos
Resultado correcto del apartado 3º: 3 puntos
Resultado correcto del apartado 4º: 2 puntos
Para obtener el aprobado será necesario alcanzar 5 puntos
Nota: Los errores conceptuales se puntuarán negativamente.

E II



E III

$$M.E.L._3 = |2\alpha|$$



E IV

